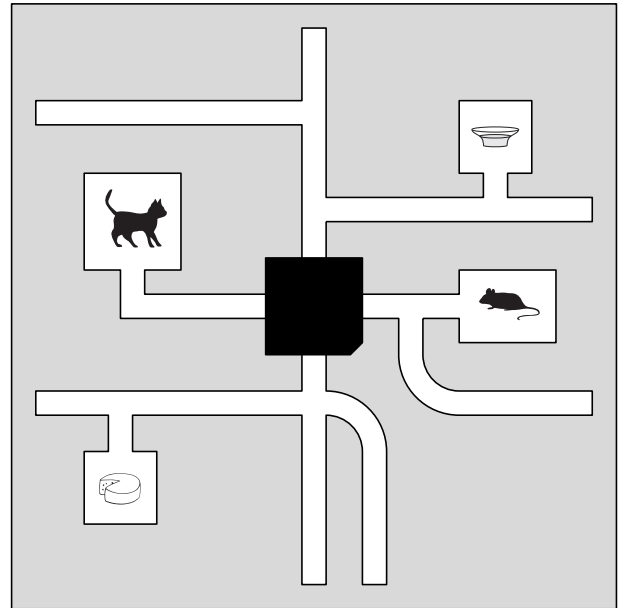
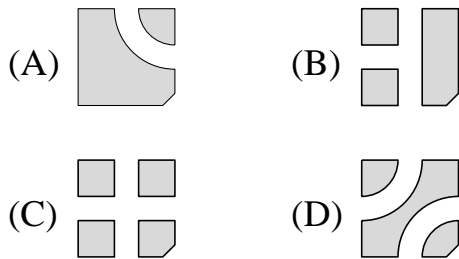




Úlohy za 3 body

1. Kočka a myš jsou v bludišti. Kočka se chce dostat k mléku, myš k sýru. Cestou se ale nesmí potkat. Jak vypadá zakrytá část bludiště?



2. Předevčirem byla sobota. Který den bude zítra?
(A) úterý (B) pondělí (C) neděle (D) pátek
3. Vyber správný výsledek: $20 + 10 - 20 + 9 - 20 + 8 =$
(A) 10 (B) 9 (C) 8 (D) 7
4. Maminka mé sestry je pro mé děti:
(A) sestřenice (B) teta (C) babička (D) maminka

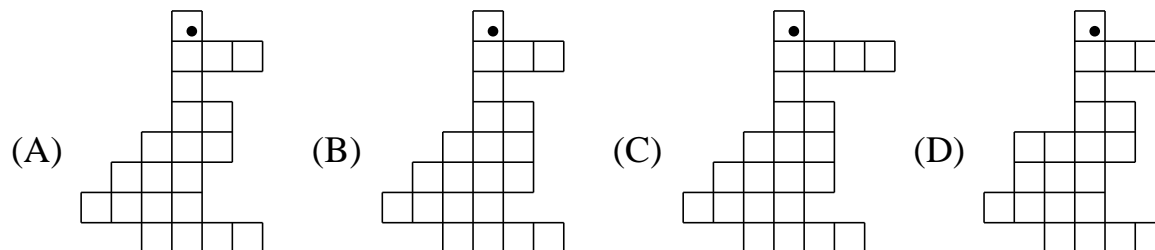
Úlohy za 4 body

5. Jana, Filip, Adam, Lucka a Tomáš jsou kamarádi. Adam je vyšší než Tomáš. Tomáš je vyšší než obě děvčata. Filip je o 15 centimetrů menší než Adam. Kdo je nejvyšší?
(A) Filip (B) Adam (C) Lucka (D) Tomáš

6. Princeznu Ladu přijelo žádat o ruku deset nápadníků z osmi království. Kolik jich mohlo být nejvíce ze stejného království?

- (A) 1 (B) 2 (C) 3 (D) 4

7. Klárka sestavovala obrázky z malých čtverečků. Na který obrázek použila největší počet čtverečků?



8. Děti měřily svými kroky délku hřiště. Anička naměřila 15 kroků, Alžbětka 17 kroků, Dušan 12 kroků a Ivo 14 kroků. Kdo z dětí má nejdelší krok?

- (A) Anička (B) Alžbětka (C) Dušan (D) Ivo

Úlohy za 5 bodů

9. Sára se narodila 2. 5. 2001. Její bratr Petr je o 2 roky a 4 dny starší. Kdy se Petr narodil?

- (A) 28. 4. 2003 (B) 6. 5. 2003 (C) 6. 5. 1999 (D) 28. 4. 1999

10. Před půl hodinou bylo půl dvanácté a pět minut. Kolik je nyní hodin?

- (A) 12:00 (B) 00:05 (C) 00:00 (D) 11:55

11. Jaké číslo musíš doplnit na prázdné místo, aby čísla v obou řádcích tabulky dávala stejný součet?

1	2	3	4	5	6	7	8	9	10	299
11	12	13	14	15	16	17	18	19	20	

- (A) 199 (B) 100 (C) 209 (D) 289

12. Kolik černých polí na obrázku musíme přebarvit bílou barvou, aby na každém řádku a v každém sloupci bylo právě jedno černé pole?

- (A) 4 (B) 5 (C) 6 (D) 7

